

ИНИЦИЈАЛНИ ТЕСТ – ПРИРОДА И ДРУШТВО

Име и презиме \_\_\_\_\_  
Оцена у трећем разреду \_\_\_\_\_

1. Заокружи слово испред тачног одговора: \_\_\_\_\_/2

Завичај је:

Рељеф је:

- |                                |   |
|--------------------------------|---|
| а) место у којем је неко рођен | а) најнижа тачка узвишења                 |
| б) главни град                 | б) равничарско земљиште                   |
| в) облик рељефа                | в) сва узвишења, удубљења и равнице краја |

2. Наведи три картографске боје и напиши шта оне претстављају на географској карти? \_\_\_\_\_/3

---

---

---

3. Напиши главне стране света \_\_\_\_\_/1

\_\_\_\_\_, \_\_\_\_\_, \_\_\_\_\_, \_\_\_\_\_

4. Заокружи слово испред одговора за који мислиш да је тачан. \_\_\_\_\_/2

• Потоци спадају у:

• Свака река има:

- |                 |                |
|-----------------|----------------|
| а) текуће воде  | а) једну обалу |
| б) стајаће воде | б) две обале   |
|                 | ц) три обале   |

5. Заокружи слово испред станишта у коме живе детлић, лисица и веверица. \_\_\_\_\_/1

- А) ливада      Б) шума      В) бара      Г) њива

ИНИЦИЈАЛНИ ТЕСТ – ПРИРОДА И ДРУШТВО

Име и презиме \_\_\_\_\_  
Оцена у трећем разреду \_\_\_\_\_

1. Заокружи слово испред тачног одговора: \_\_\_\_\_/2

Завичај је:

Рељеф је:

- |                                |   |
|--------------------------------|---|
| а) место у којем је неко рођен | а) најнижа тачка узвишења                 |
| б) главни град                 | б) равничарско земљиште                   |
| в) облик рељефа                | в) сва узвишења, удубљења и равнице краја |

2. Наведи три картографске боје и напиши шта оне претстављају на географској карти? \_\_\_\_\_/3

---

---

---

3. Напиши главне стране света \_\_\_\_\_/1

\_\_\_\_\_, \_\_\_\_\_, \_\_\_\_\_, \_\_\_\_\_

4. Заокружи слово испред одговора за који мислиш да је тачан. \_\_\_\_\_/2

• Потоци спадају у:

• Свака река има:

- |                 |                |
|-----------------|----------------|
| а) текуће воде  | а) једну обалу |
| б) стајаће воде | б) две обале   |
|                 | ц) три обале   |

5. Заокружи слово испред станишта у коме живе детлић, лисица и веверица. \_\_\_\_\_/1

- А) ливада      Б) шума      В) бара      Г) њива

**6. На линијама напиши по три назива животних заједница.**

ПРИРОДНЕ \_\_\_\_\_/6

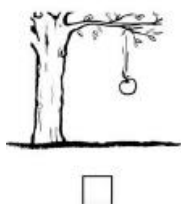
КУЛТИВИСАНЕ \_\_\_\_\_

**7. Допуни реченицу: \_\_\_\_\_/1**

Промена положаја једног тела у односу на друго тело назива се \_\_\_\_\_.

**8. У квадратић испод сваке слике упиши број који означава кретање приказано на тој слици. \_\_\_\_\_/3**

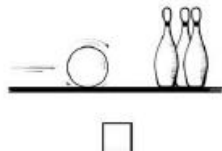
1. клизање



2. котрљање



3. падање



**9. Допуни реченице: \_\_\_\_\_/3**

Деценија је временски период од \_\_\_\_\_ година.

Век траје \_\_\_\_\_ година.

Један век има \_\_\_\_\_ деценија.

**Бодови: \_\_\_\_\_ / 22**

**6. На линијама напиши по три назива животних заједница.**

ПРИРОДНЕ \_\_\_\_\_/6

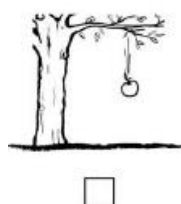
КУЛТИВИСАНЕ \_\_\_\_\_

**7. Допуни реченицу: \_\_\_\_\_/1**


Промена положаја једног тела у односу на друго тело назива се \_\_\_\_\_.

**8. У квадратић испод сваке слике упиши број који означава кретање приказано на тој слици. \_\_\_\_\_/3**

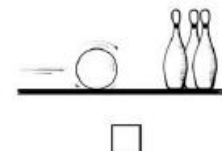
1. клизање



2. котрљање



3. падање



**9. Допуни реченице: \_\_\_\_\_/3**

Деценија је временски период од \_\_\_\_\_ година.

Век траје \_\_\_\_\_ година.

Један век има \_\_\_\_\_ деценија.

**Бодови: \_\_\_\_\_ / 22**