

Име и презиме _____

1. Материја може бити у _____, _____ и _____ стању _____/3

2. Брзина растварања материје зависи од:

_____ /5

3. Обоји слободну површину течности:



4. Да ли ће предмети у течности пливати или тонути зависи од _____ и _____. _____/2

5. Заокружи слово испред тачног одговора. _____/1

- а) На равној подлози течност се разлива, а на косој тече.
- б) На равној подлози течност стоји, а на косој тече.
- в) На равној подлози течност тече, а на косој плива.

6. Вода је _____ без _____, _____ и _____. _____/4

7. Напиши како се зове вода у различитим агрегатним стањима. _____/3

Име и презиме _____

1. Материја може бити у _____, _____ и _____ стању _____/3

2. Брзина растварања материје зависи од:

_____ /5

3. Обоји слободну површину течности:



4. Да ли ће предмети у течности пливати или тонути зависи од _____ и _____. _____/2

5. Заокружи слово испред тачног одговора. _____/1


- а) На равној подлози течност се разлива, а на косој тече.
- б) На равној подлози течност стоји, а на косој тече.
- в) На равној подлози течност тече, а на косој плива.

6. Вода је _____ без _____, _____ и _____. _____/4

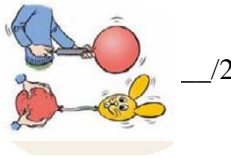
7. Напиши како се зове вода у различитим агрегатним стањима. _____/3

8. Ваздух је _____ без _____,
_____ и _____. /4

9. Када чашу потопимо у посуду са водом,
доказујемо да ваздух _____.



10. Ваздух _____
простора у којем се налази.



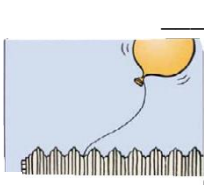
11. Ваздух се при загревању _____ и _____,
а при хлађењу _____ и _____. /4

12. Погледај слику и објасни шта смо доказали овим експериментом. /2



13. Размисли и објасни зашто се балон напуњен топлим ваздухом диже увис.

_____/2



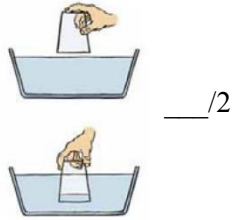
Бодови: _____ / 36

Оцена:




8. Ваздух је _____ без _____,
_____ и _____. /4

9. Када чашу потопимо у посуду са водом,
доказујемо да ваздух _____.



10. Ваздух _____
простора у којем се налази.



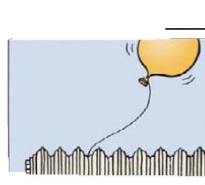
11. Ваздух се при загревању _____ и _____,
а при хлађењу _____ и _____. /4

12. Погледај слику и објасни шта смо доказали овим експериментом. /2



13. Размисли и објасни зашто се балон напуњен топлим ваздухом диже увис.

_____/2



Бодови: _____ / 36

Оцена:

