


Ime i prezime _____

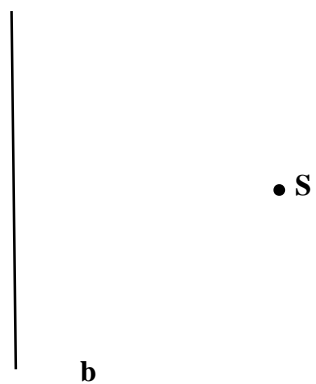
1. Nacrtaj pravu p koja prolazi kroz tačku A i paralelna je sa pravom m.

___/2



2. Nacrtaj pravu a koja prolazi kroz tačku S i normalna je sa pravom b.

___/2



Ime i prezime _____


1. Nacrtaj pravu p koja prolazi kroz tačku A i normalna je sa pravom m.

___/2



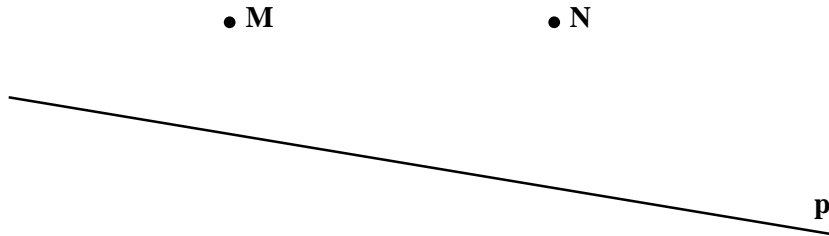
2. Nacrtaj pravu a koja prolazi kroz tačku S i paralelna je sa pravom b.

___/2




3. Data je prava p i tačke M i N koje ne pripadaju pravoj p . Nacrtaj pravu m koja sadrži tačku M i normalna je na pravu p i nacrtaj pravu n koja sadrži tačku N i paralelna je sa pravom p .

___/4



4. Pažljivo pogledaj sliku i odredi:

___/6



- a) Na slici je _____
- b) Temena: _____
- c) Duži: _____
- d) Uglovi _____
- e) Naspramne stranice : _____
- f) Susedne stranice : _____

Bodovi : _____ / 14

Ocena:

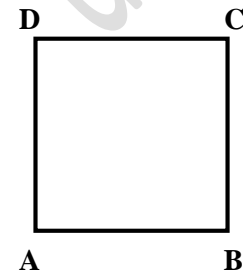
3. Data je prava p i tačke M i N koje ne pripadaju pravoj p . Nacrtaj pravu m koja sadrži tačku M i paralelna je sa pravom p i nacrtaj pravu n koja sadrži tačku N i normalna je na pravu p .

___/4



4. Pažljivo pogledaj sliku i odredi:

___/6



- a) Na slici je _____
- b) Temena: _____
- c) Duži: _____
- d) Uglovi _____
- e) Naspramne stranice : _____
- f) Susedne stranice : _____

Bodovi : _____ / 14

Ocena: