
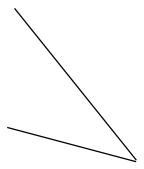
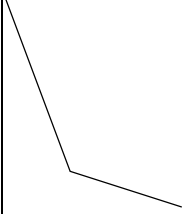
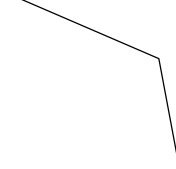

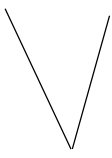


УГЛОВИ

Име и презиме _____

1. Упиши у табелу врсту угла. ___/6


Углови						
Назив угла						

2. Нацртај и обележи теме и краке угла. На линији испод цртежа напиши назив угла. ___/9

а) оштар угао

б) прав угао


в) туп угао



∠ _____

3. Нацртај један прав и један оштар угао тако да имају један крак заједнички. ___/5

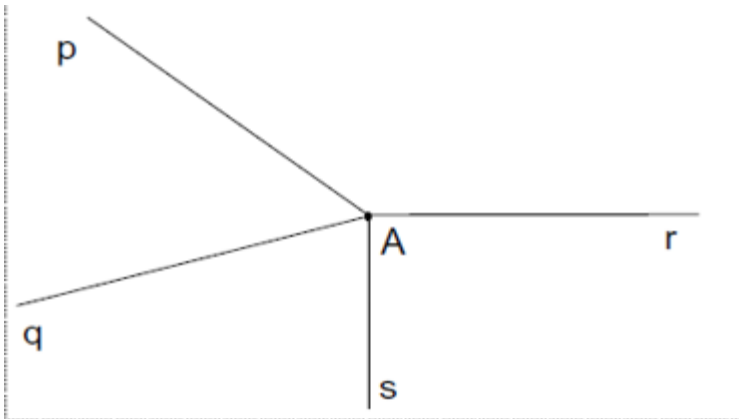
4. На часовнику нацртај казаљке тако да показују 9 часова. Који угао заклапају његове казаљке? ___/3



Одговор: _____

5. Запиши све углове које уочаваш на слици.

___/12



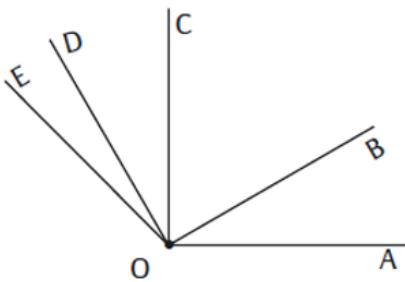
Оштри углови су _____

Тупи углови су _____

Прави углови су _____

Додатни задатак

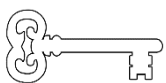

Пронађи колико којих углова има на слици и у срце унеси одговарајућа слова из кључа. Добићеш реч.



Оштри углови су _____ има их

Тупи углови су _____ има их

Прави углови су _____ има их



1	2	3	4	5
П	Т	А	Е	С

Бодови _____ / 35 0 – 11 = 1 12 – 17 = 2 18 – 23 = 3 24 – 29 = 4 30 – 35 = 5

Оцена :

