

Име и презиме \_\_\_\_\_

1. Завичај је \_\_\_\_\_ /2

2. Рељеф је \_\_\_\_\_ /2

3. Упиши бројеве од 1 до 3 испред назива узвишења тако да их поређаш од најнижег до највишег:  
\_\_\_ брдо, \_\_\_ планина, \_\_\_ брежуљак \_\_\_\_\_ /3

4. Заокружи текуће воде:  
река, бара, поток, језеро, речица, море \_\_\_\_\_ /3

5. Географска карта је \_\_\_\_\_ /2

6. Повежи појмове са одговарајућим описима:  
Ушће \_\_\_\_\_ мања река која се улива у већу реку

Бара \_\_\_\_\_ место на коме почиње река \_\_\_\_\_ /4

Притока \_\_\_\_\_ удубљење испуњено стајаћом водом

Извор \_\_\_\_\_ место на коме се река улива у другу реку, језеро

7. Наведи три особине равничарске реке: \_\_\_\_\_ ,  
\_\_\_\_\_, \_\_\_\_\_, \_\_\_\_\_ /3

8. Основни облици рељефа су: \_\_\_\_\_ , \_\_\_\_\_ ,  
\_\_\_\_\_. \_\_\_\_\_ /3

9. Која боја на географској карти преовладава на северу Србије?  
Објасни зашто.

\_\_\_\_\_ /4

10. Објасни како се користи компас. \_\_\_\_\_ /5

Име и презиме \_\_\_\_\_

1. Завичај је \_\_\_\_\_ /2

2. Рељеф је \_\_\_\_\_ /2

3. Упиши бројеве од 1 до 3 испред назива узвишења тако да их поређаш од најнижег до највишег:  
\_\_\_ брдо, \_\_\_ планина, \_\_\_ брежуљак \_\_\_\_\_ /3

4. Заокружи текуће воде:  
река, бара, поток, језеро, речица, море \_\_\_\_\_ /3

5. Географска карта је \_\_\_\_\_ /2

6. Повежи појмове са одговарајућим описима:  
Ушће \_\_\_\_\_ мања река која се улива у већу реку

Бара \_\_\_\_\_ место на коме почиње река \_\_\_\_\_ /4

Притока \_\_\_\_\_ удубљење испуњено стајаћом водом

Извор \_\_\_\_\_ место на коме се река улива у другу реку, језеро

7. Наведи три особине равничарске реке: \_\_\_\_\_ ,  
\_\_\_\_\_, \_\_\_\_\_, \_\_\_\_\_ /3

8. Основни облици рељефа су: \_\_\_\_\_ , \_\_\_\_\_ ,  
\_\_\_\_\_. \_\_\_\_\_ /3

9. Која боја на географској карти преовладава на северу Србије?  
Објасни зашто.

\_\_\_\_\_ /4

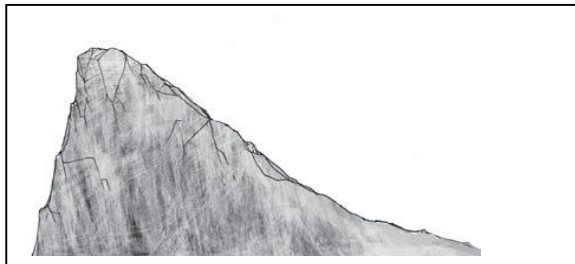
10. Објасни како се користи компас. \_\_\_\_\_ /5

11. Упиши у поља поред карте скраћенице за главне стране света.



\_\_\_/4

12. Нацртај у подножју брда ауто, на врху јелку, а на благој падини кућу.



\_\_\_/3

13. Нацртај картографске знакове за:



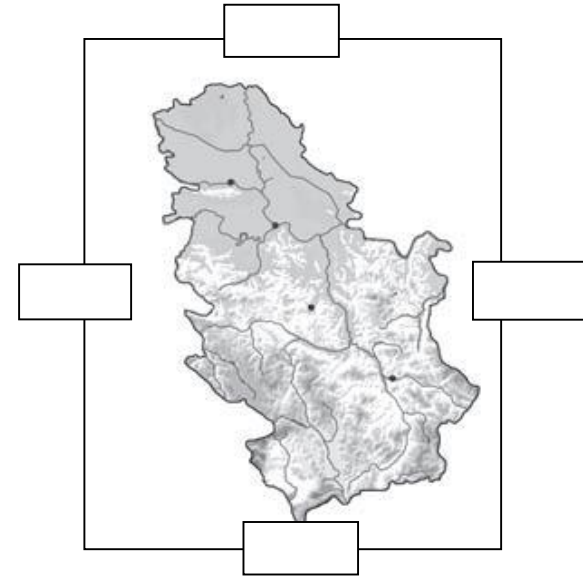
\_\_\_/5

реку рудник аеродром бању државну границу

Бодови : \_\_\_ / 43

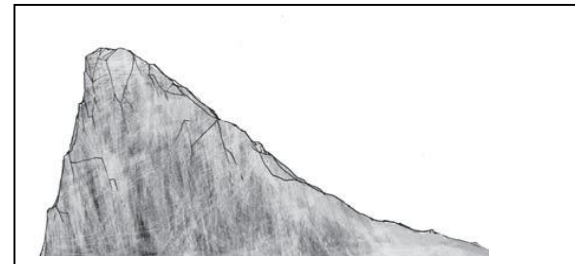
Оцена: \_\_\_

11. Упиши у поља поред карте скраћенице за главне стране света.



\_\_\_/4

12. Нацртај у подножју брда ауто, на врху јелку, а на благој падини кућу.



\_\_\_/3

13. Нацртај картографске знакове за:



\_\_\_/5

реку рудник аеродром бању државну границу

Бодови : \_\_\_ / 43

Оцена: \_\_\_