

ДЕЉЕЊЕ БРОЈЕВА

Име и презиме _____

1. Израчунај:

$72 : 8 =$ $36 : 6 =$ $56 : 7 =$

$36 : 4 =$ $63 : 9 =$ _____ / 5

2. Који је број :

а) 3 пута мањи од 18

б) за 6 мањи од 30

в) 4 пута мањи од 28

_____ / 6

3. Дељеник је 81, а делилац је 9. Израчунај количник.

_____ / 2

4. У корпи је 40 јабука. Треба ставити по 5 јабука у кесе.

Колико је кеса потребно ?

3

_____ /

Р: _____




О: _____

5. У пекари се седмично троши 63 вреће брашна. Колико се брашна троши дневно ?

_____ / 3

Р: _____



О: _____

ДЕЉЕЊЕ БРОЈЕВА

Име и презиме _____

1. Израчунај:

$72 : 8 =$ $36 : 6 =$ $56 : 7 =$

$36 : 4 =$ $63 : 9 =$ _____ / 5

2. Који је број :

а) 3 пута мањи од 18

б) за 6 мањи од 30

в) 4 пута мањи од 28

_____ / 6

3. Дељеник је 81, а делилац је 9. Израчунај количник.

_____ / 2

4. У корпи је 40 јабука. Треба ставити по 5 јабука у кесе.

Колико је кеса потребно ?

3

_____ /

Р: _____




О: _____

5. У пекари се седмично троши 63 вреће брашна. Колико се брашна троши дневно ?

_____ / 3

Р: _____



О: _____

6. Израчунај разлику броја 53 и количника бројева 72 и 9.

_____ / 4

7. Број 70 умањи 7 пута, па добијени количник умањи за 7.

_____ / 4

8. Бојице коштају 63 динара. Цена четкице је 7 пута мања, а блок кошта за 7 динара мање од цене бојица. Колико треба платити за блиок и четкицу?

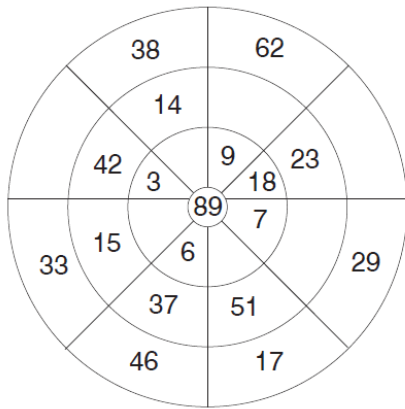
Р: _____



О: _____

ДОДАТНИ ЗАДАТАК

Уочи правило и попуни празна поља.



_____ / 33

0 - 11 = 1 12 - 16 = 2 17 - 22 = 3 23 - 28 = 4 29 - 33 = 5

6. Израчунај разлику броја 53 и количника бројева 72 и 9.

_____ / 4

7. Број 70 умањи 7 пута, па добијени количник умањи за 7.

_____ / 4

8. Бојице коштају 63 динара. Цена четкице је 7 пута мања, а блок кошта за 7 динара мање од цене бојица. Колико треба платити за блиок и четкицу?

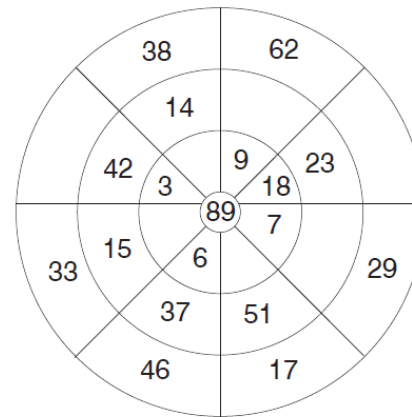
Р: _____



О: _____

ДОДАТНИ ЗАДАТАК

Уочи правило и попуни празна поља.



_____ / 33

0 - 11 = 1 12 - 16 = 2 17 - 22 = 3 23 - 28 = 4 29 - 33 = 5